

Soyez très attentifs aux consignes données tout au long du diaporama, aux questions posées (n'en oubliez pas) et aux points accordés à chaque question qui déterminent l'importance des réponses.

II/ DES CIVILISATIONS QUI S'AFFRONTENT

Q1. Montrez les tensions entre Rome et Constantinople à partir des deux premières diapos (2 points).

- 1 - Pape (Rome) se veut chef de toute l'Eglise chrétienne.
- 2 - Divergences de pratiques religieuses (= « rites ») et linguistiques



→ **1054** = « **SCHISME** » (séparation officielle Eglise d'Occident / Eglise d'Orient).

DIVISION POLITIQUE

Plusieurs affrontements => culminent en **1204**

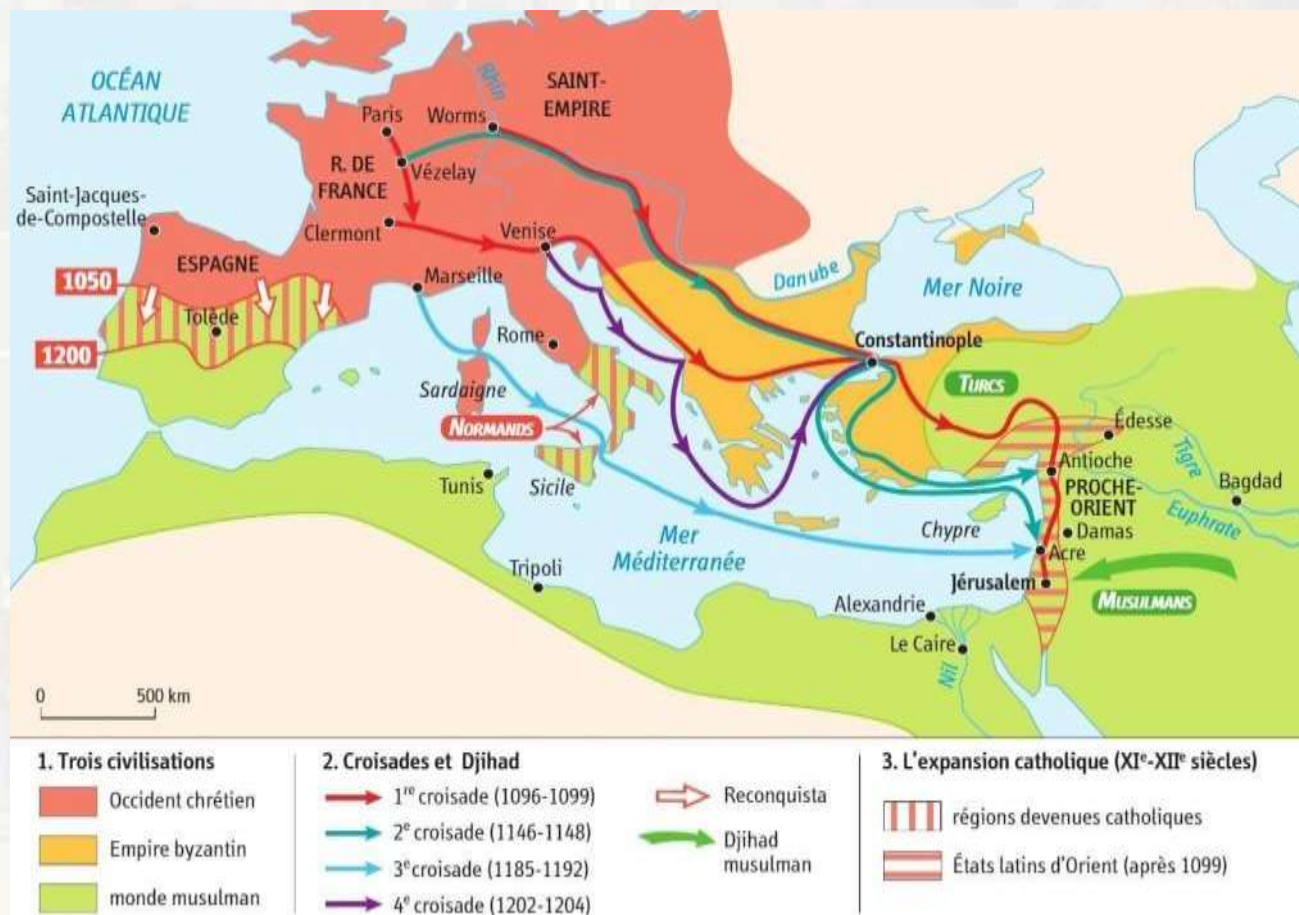
→ chevaliers européens (*catholiques*) s'emparent de Constantinople et la pillent (*massacre de 2.000 Byzantins*)



→ **RUPTURE DEFINITIVE**

Q2. Comment appelle-t-on la guerre menée par les musulmans pour étendre leur territoire, le nom de celle menée par les Espagnols pour récupérer leurs terres et l'attaque des chrétiens pour récupérer la route menant à Jérusalem ? (1 point).

Q3. Qu'est-ce qui est créé pour les chrétiens pour asseoir leur domination au Moyen-Orient ? (2 points).



La création des Etats latins d'Orient



-  Comté d'Edesse (1098)
-  Principauté d'Antioche (1098)
-  Comté de Tripoli (1102)
-  Royaume de Jérusalem(1099)
-  Forteresse chrétienne
-  Byzantins
-  Musulmans



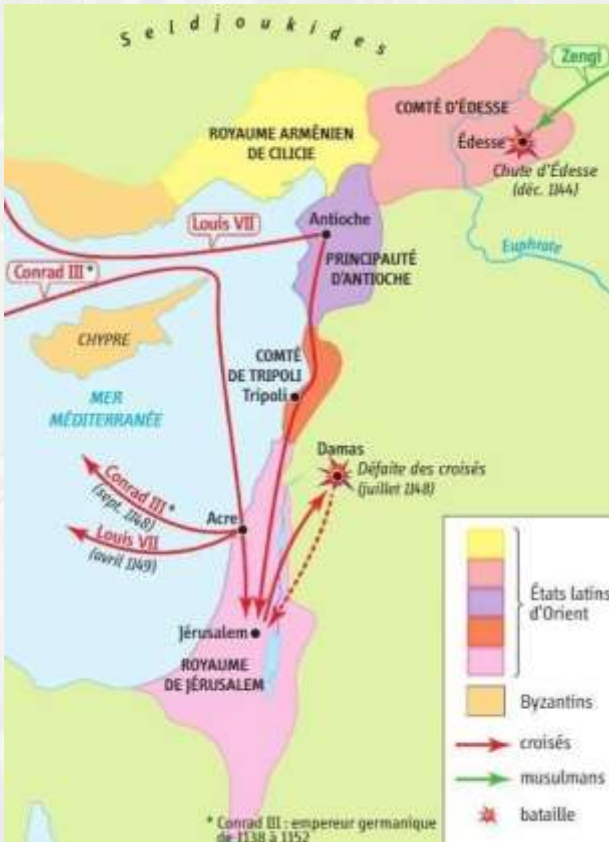
Krak des chevaliers en Syrie

Rapidement, ces Etats sont menacés : les croisades alimentent un renouveau du DJIHAD.

BERNARD DE CLAIRVAUX ET LA 2^{ème} CROISADE

Suite du DM à partir de votre manuel : Q1, 2 et 3 p 55 du Parcours A. (4 points).

Ces trois questions deviennent les Q4, 5 et 6 dans ce DM.



6 Les raisons de l'échec selon Bernard de Clairvaux

Tout se passait comme si le Seigneur, provoqué par nos péchés, avait jugé le monde avec justice, certes, mais sans miséricorde. Car il n'a épargné ni son peuple, ni sa gloire. Ne dit-on pas chez les infidèles : « Où se trouve donc le Dieu de ces gens-là ? » Cela n'a rien d'étonnant. [...] Ceux que l'on nomme du nom de chrétiens sont restés couchés¹ dans le désert. La discorde a sévi parmi les chefs, et le Seigneur les a laissés se perdre [...]. Nous avions promis le succès et voici que survient la déroute. [...] Pourquoi n'a-t-il accordé aucune attention à nos jeûnes ? Pourquoi a-t-il ignoré les mortifications de nos cœurs ? Rien de tout cela n'a réussi à calmer sa colère, puisque son bras reste toujours levé sur nous. [...] Et pourtant, qui pourrait nier que les jugements de Dieu ne soient justes ! Mais celui-là représente pour moi un tel abîme que l'on n'aurait pas tort, je crois, de proclamer bienheureux qui n'en serait pas scandalisé.

Bernard de Clairvaux, *De la considération*, © Cerf, Paris, 1986.

¹Morts.

3 BIOGRAPHIE

Bernard de Clairvaux (1090-1153)

Né dans une famille noble de Bourgogne, Bernard de Fontaine entre dans l'abbaye de Cîteaux en 1112 puis fonde celle de Clairvaux en 1115. Son charisme, son éloquence et ses convictions inflexibles l'amènent rapidement à la tête du mouvement cistercien. Appelé désormais Bernard de Clairvaux, il développe son ordre au-delà des frontières du royaume de France et fonde de nombreux monastères dans toute l'Europe catholique. Il devient un des hommes les plus influents de son temps, intervenant dans les affaires de l'Église et des royaumes. Fervent défenseur de la croisade, il participe à la création de l'ordre religieux des Templiers chargés de protéger par les armes les pèlerins en Terre sainte.


À la demande du Pape, Bernard de Clairvaux prêche la deuxième croisade et multiplie les voyages dans l'Occident chrétien pour pousser au départ (1146). Après l'échec de celle-ci, il se retire et meurt d'épuisement au monastère de Clairvaux en 1153. Il est rapidement canonisé et devient saint Bernard en 1174.

III. CONTACTS ET ÉCHANGES EN MÉDITERRANÉE

Des civilisations qui s'affrontent (*cf. croisades*) ... et qui nouent des contacts

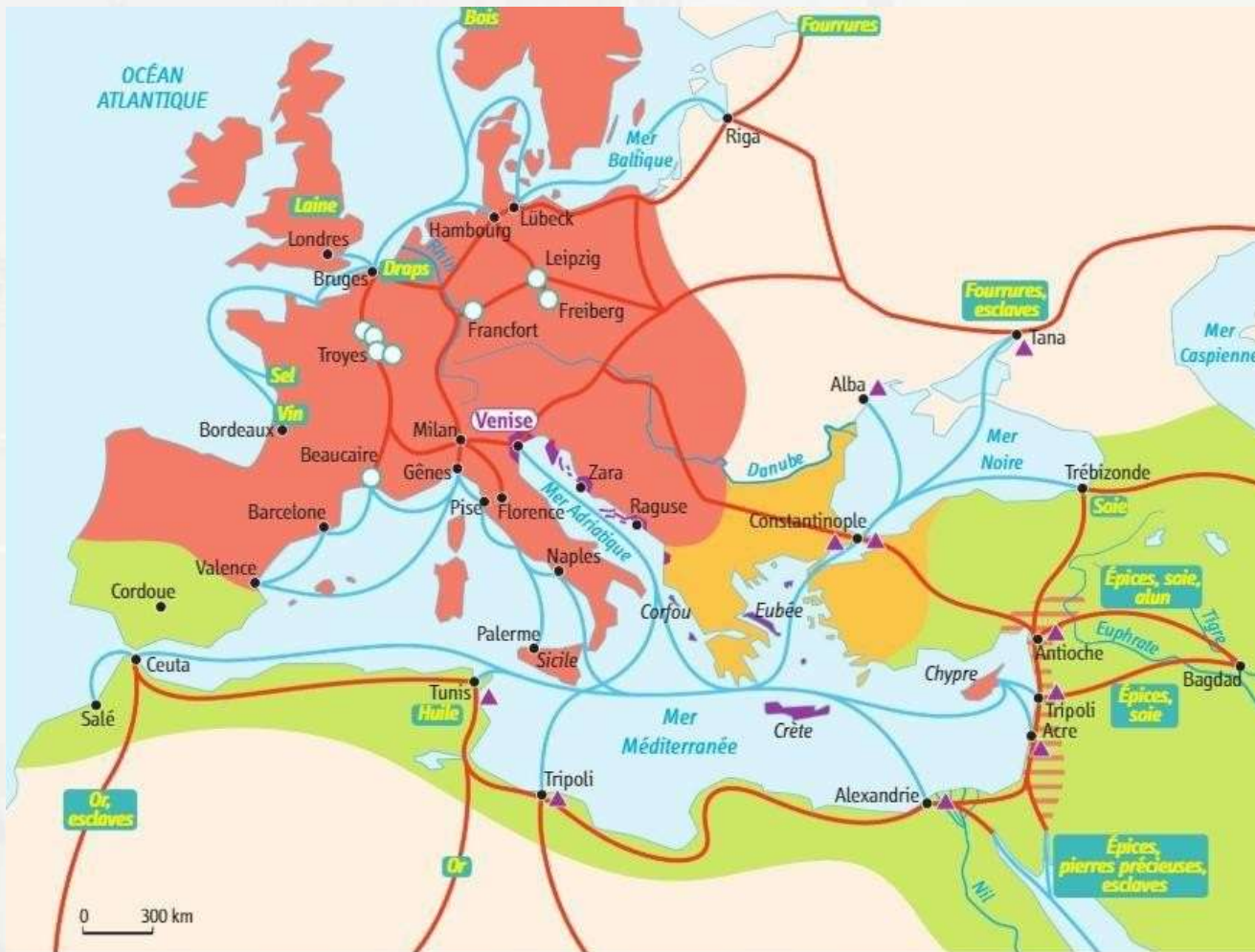


Affrontement entre chrétiens et arabo-musulmans en Espagne (XIII^{ème} siècle)



En 802, l'Empereur Charlemagne reçoit comme cadeau du calife Haroun Al-Rachid un éléphant (représentation contemporaine)

Q7. Montrez que les cités italiennes servent d'intermédiaire dans les relations commerciales entre Orient et Occident. (2 points).



1. Les trois civilisations

- Occident chrétien
- Empire byzantin
- monde musulman

2. Routes commerciales

- routes du commerce maritime
- routes du commerce terrestre
- Draps produits échangés

3. Pôles de commerce

- villes marchandes
- villes de foire
- territoires vénitiens après la 4^e croisade (1204)
- villes ayant des comptoirs ou des accords économiques avec Venise

4 Un marchand italien à la foire de Troyes

Ce marchand adresse une lettre à son associé à Sienne.

« Quand le messenger de la Mercanzia¹ sera arrivé, je pourrai lire vos lettres ; et je mettrai toute mon activité à faire ce que vous me demandez.

Ici, il y a des marchandises en abondance. Le poivre ne se vend pas bien. Le gingembre se vend de 22 à 28 deniers la livre, selon la qualité. Le safran est très demandé : il se vend 25 sous la livre, et il n'y en a plus sur le marché. La cire de Venise se vend 23 deniers la livre. La poudre d'or vaut selon la qualité. L'associé de Scotto² a beaucoup de marchandises, mais il ne parvient pas à les écouler ; il pense les expédier en Angleterre pour les vendre là-bas. »

Lettre adressée à Tolomeo de Sienne par un de ses associés, 1265.

¹ Association des marchands de Sienne.

² Un autre marchand de Sienne.

III/ CONTACTS ET ÉCHANGES EN MÉDITERRANÉE

Exemple de Venise

Q8. A partir de la vidéo (lien en dessous) remplissez le tableau ci-contre en étant le plus complet possible et en donnant des exemples. (8 points).

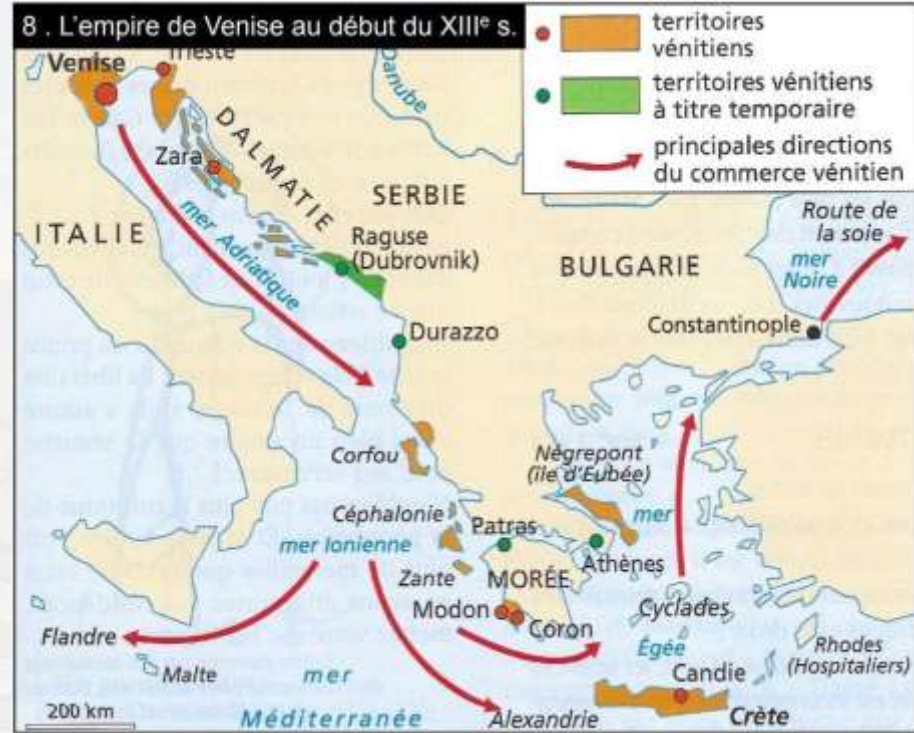
Dans la diapo suivante j'ai rajouté quelques documents que vous pouvez utiliser.

Lien de la vidéo <https://we.tl/t-tvPPNt6C7Z>

LOCALISATION ET ORGANISATION POLITIQUE (dirigeants, etc.)	PUISSANCE COMMERCIALE	CONSEQUENCES DE LA PUISSANCE COMMERCIALE (architecture, société.)	PUISSANCE MILITAIRE ET POLITIQUE (conquêtes, etc.)



Transport des croisés par les Vénitiens (XIIIe siècle)



Q9. Cherchez pourquoi cette pièce de monnaie montre l'importance de Venise. (1 point).